

शिक्षक सेवा आयोग
खुला प्रतियोगितात्मक परीक्षा
नमुना (Sample) प्रश्नपत्र २०७७
सामान्य परीक्षा

तह : आधारभूत

पूर्णाङ्क: १००
उत्तीर्णाङ्क: ५०
समय: १ घण्टा.....

समूह क : सामान्य ज्ञान

१. नेपालमा प्रचलित विक्रम सम्वत्को पात्रोमा दिनाङ्क परिवर्तन कति बेला हुन्छ ?
 - क) राति १२ बजेपछि
 - ख) बिहान ४ बजेपछि
 - ग) सूर्योदयपछि
 - घ) बिहान ६ बजेपछि
२. मानव विकास सूचकाङ्क निकाल्नमा प्रयोग गरिने सूचकहरूमध्ये शिक्षा क्षेत्रअन्तर्गत देहायकामध्ये कुन कुन सूचक समावेश गरिएका हुन्छन् ?
 - क) कूल साक्षरता दर र औसत विद्यालय वर्ष
 - ख) खुद भर्नादर र अपेक्षित विद्यालय वर्ष
 - ग) औसत विद्यालय वर्ष र अपेक्षित विद्यालय वर्ष
 - घ) औसत विद्यालय वर्ष र प्राथमिक तहको छात्रा भर्ना दर
३. अक्षांश रेखाको आधारमा नेपालको कुन स्थान सबैभन्दा उत्तर दिशामा पर्दछ ?
 - क) भीमदत्त नगर
 - ख) नेपालगञ्ज
 - ग) पोखरा
 - घ) ईलाम

खण्ड ख : शिक्षासम्बन्धी आधारभूत ज्ञान

४. शिक्षाको "E + duco" मा आधारित शाब्दिक अर्थ कुन सिकाइ सिद्धान्तको निकट छ ?
 - (क) शास्त्रीय सम्बन्धन
 - (ख) क्रियापरक सम्बन्धन
 - (ग) प्रयत्न र भूल सिकाइ सिद्धान्त
 - (घ) अन्तरदृष्टिद्वारा सिकाइ
५. पूर्व वाल्यावस्थामा देखा पर्ने नकारात्मकताको प्रमुख कारण के हो ?
 - क) बालबालिकाको बढ्दो क्रियात्मक विकास
 - ख) साना भाई बैनीप्रतिको ईर्ष्या
 - ग) सुरक्षात्मक कारणले आमाबाबुको हस्तक्षेप
 - घ) बालबालिकाको बढ्दो जिज्ञासा
६. कुन तत्वको सम्बन्ध सिकाइको दर र मात्रासंग हुन्छ ?
 - क) प्रेरणा - दर, अभ्यास - मात्रा
 - ख) अभ्यास - दर, स्मरण - मात्रा
 - ग) पुनर्बल - दर, स्मरण - मात्रा
 - घ) पुनर्बल - दर, अभ्यास - मात्रा

खण्ड ग: सूचना तथा सञ्चार प्रविधि

७. देहायकामध्ये कुनचाँहि भनाइ सही हो ?
- क) एक गिगावाइटमा १००४ एमबि हुन्छ ।
 - ख) एक गिगावाइटमा १०१२ एमबि हुन्छ ।
 - ग) एक गिगावाइटमा १०२४ एमबि हुन्छ ।
 - घ) एक गिगावाइटमा १०३६ एमबि हुन्छ ।
८. कम्प्युटरले निम्नमध्ये कुन कार्य गर्दैन ?
- क) सूचनाको विकास
 - ख) सूचनाको भण्डारण
 - ग) सूचनाको प्रशोधन
 - घ) सूचनाको विश्लेषण
९. MS-Word मा कम्प्युटरले कुनै फाइलमा भएको विषयवस्तु अर्को फाइलमा राख्नुपर्दा Ctrl+A मार्फत सबै सामग्री छनौट गरेर Ctrl+C मार्फत कपी गरेर यसलाई नयाँ फाइलमा राख्दा के गर्नु पर्छ ?
- क) Ctrl+I
 - ख) Ctrl+N
 - ग) Ctrl+P
 - घ) Ctrl+V

खण्ड घ : संविधान तथा शिक्षासम्बन्धी ऐन तथा नियमहरू


१०. नेपालको संविधान बमोजिम देहायकामध्ये कुनचाँहि ठिक छ ?
- क) मौलिक हक ३२ ओटा र शिक्षासम्बन्धी हक ५ ओटा
 - ख) मौलिक हक ३१ ओटा र शिक्षासम्बन्धी हक ५ ओटा
 - ग) मौलिक हक २३ ओटा र शिक्षा सम्बन्धी हक ४ ओटा
 - घ) मौलिक हक ४६ ओटा र शिक्षासम्बन्धी हक ७ ओटा
११. स्थानीय सरकार सञ्चालन ऐन २०७४ को दफा ११ ज अनुसार सिकाइ उपलब्धिको सम्बन्धमा स्थानीय तहको काम देहायकामध्ये कुनचाँहि हो ?
- क) सञ्चालन र व्यवस्थापन गर्ने
 - ख) सञ्चालन र अनुगमन गर्ने
 - ग) परीक्षण र व्यवस्थापन गर्ने
 - घ) समन्वय र नियमन गर्ने
१२. शिक्षा नियमावली २०४९ अनुसार कुनै कक्षामा तोकिएकोभन्दा बढी विद्यार्थी भए अर्को वर्ग खोल्न कसको अनुमति लिनुपर्छ ?
- क) विद्यालय व्यवस्थापन समिति
 - ख) शिक्षा विकास तथा समन्वय इकाइ
 - ग) स्थानीय निकायको शिक्षा शाखा
 - घ) शिक्षक अभिभावक संघ

खण्ड ड : बौद्धिक परीक्षण

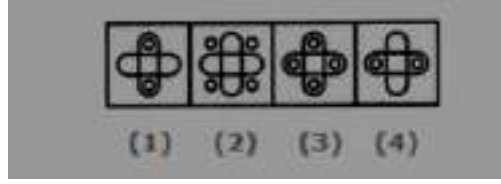
१३. २, ५, १०, १७, २६ श्रेणी क्रमको अर्को दुई पद के के होलान् ?
- क) ३४ र ४७
ख) ३५ र ४८
ग) ३६ र ४९
घ) ३७ र ५०

- १४) तल दिइएको “चित्र ए” को अन्तिम कोठामा “चित्र बी” को कुन विकल्प उपयुक्त हुन्छ ?


चित्र ए



चित्र बी



- क) १ ख) २ ग) ३ घ) ४
- १५) तलको चित्रमा A, B, C, D मा भएका चार बक्समध्ये एउटामात्र फरक छ। त्यो फरक एउटा पत्ता लगाउनुहोस्।



- क) A ख) B ग) C घ) D

द्रष्टव्य: यस्तै प्रकृतिका खण्ड क सामान्य ज्ञानबाट २ अङ्क भारका १५ प्रश्न, खण्ड ख शिक्षासम्बन्धी आधारभूतज्ञानबाट २० प्रश्न खण्ड ग सूचना तथा सञ्चार प्रविधिबाट ५ प्रश्न, खण्ड घ संविधान तथा शिक्षासम्बन्धी ऐन तथा नियमहरूबाट ५ प्रश्न, खण्ड ड बौद्धिक परीक्षणबाट ५ प्रश्न गरी जम्मा ५० ओटा प्रश्नका १०० पूर्णाङ्कको परीक्षा लिइनेछ।